

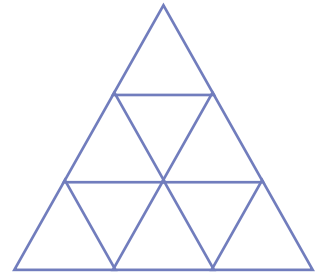
## 20. Kiek figūrų?

### Įvadas

Šiuose uždaviniuose reikės suskaičiuoti figūras. Norėdami nepraleisti nė vienos, turėsite būti kūrybingi ir kruopštūs! Ar pasiruošę iššūkiui?

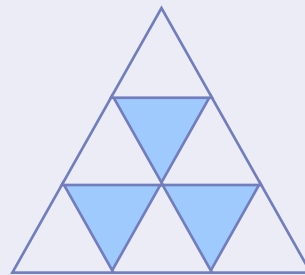
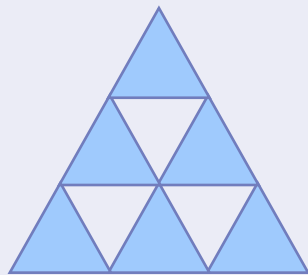
### Uždaviniai

1. Kiek šiame paveikslėlyje iš viso pavaizduota trikampių?

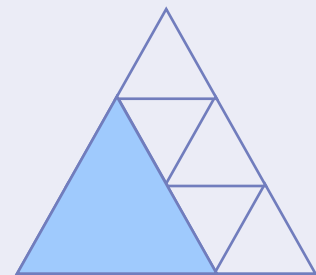
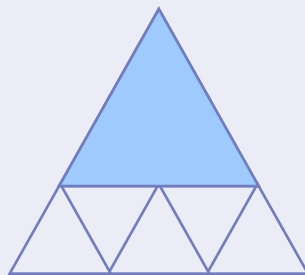
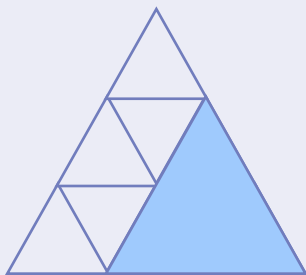


#### Kaip spręsti?

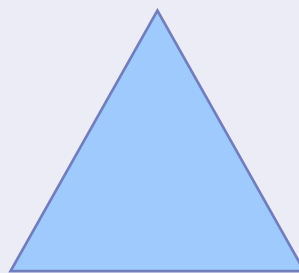
Pradžioje suskaičiuokite mažus trikampius. Jų yra 9.



Paskui suskaičiuokite vidutinio dydžio trikampius. Jų yra 3.



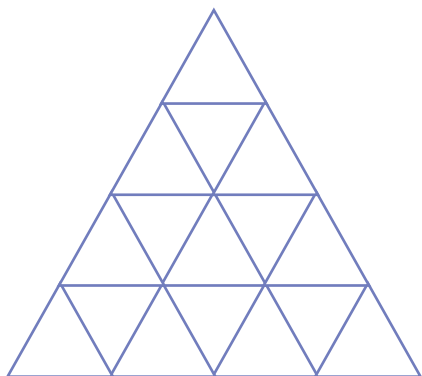
Ir galiausiai reikia nepamiršti didžiojo trikampio.



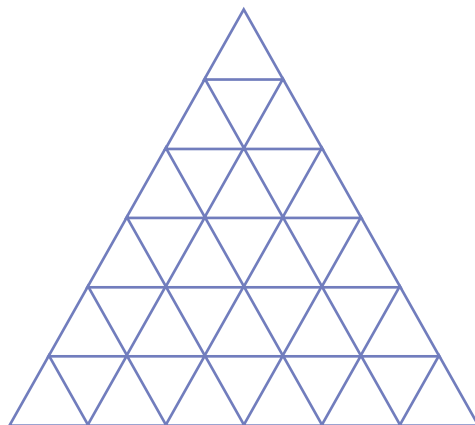
Taigi iš viso pavaizduota **13 trikampių**.

## 20. Kiek figūrų?

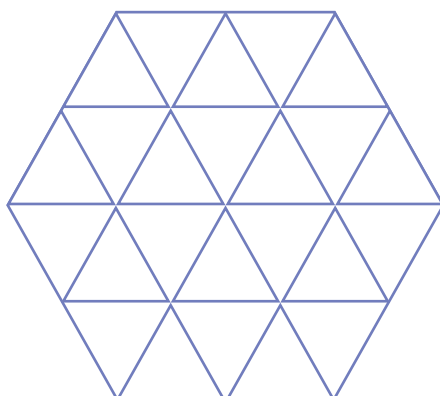
2. Kiek trikampių pavaizduota šiame paveikslėlyje?



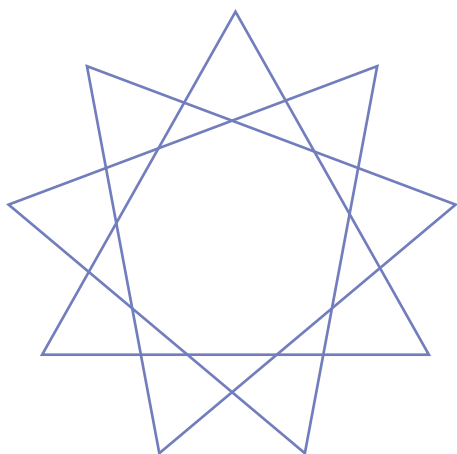
3. Kiek šiame paveikslėlyje yra trikampių?




4. Kiek šiame paveikslėlyje yra trikampių ir kiek šešiakampių?



5. Kiek iš viso trikampių pavaizduota paveikslėlyje?

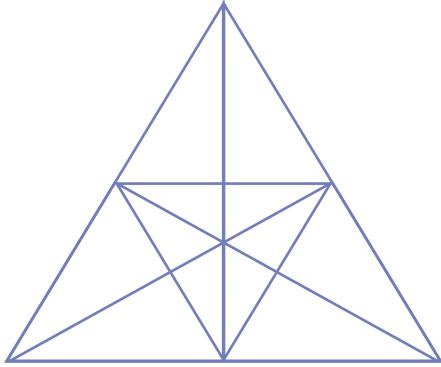


6. Kiek iš viso trikampių pavaizduota paveikslėlyje?

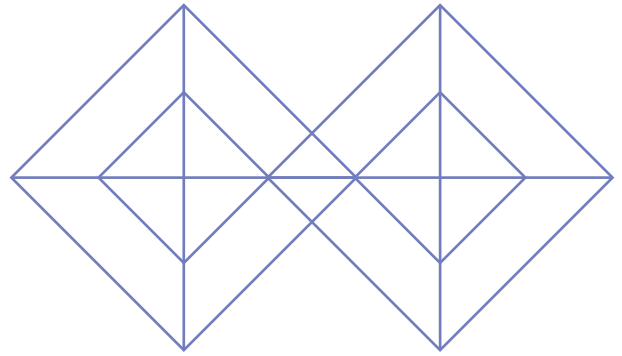


## 20. Kiek figūrų?

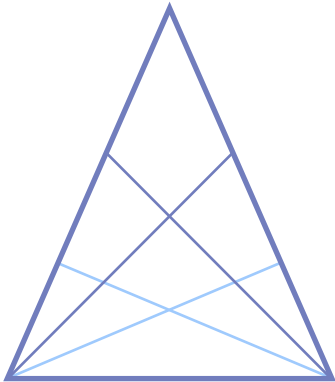
7. Kiek iš viso trikampių pavaizduota paveikslėlyje?



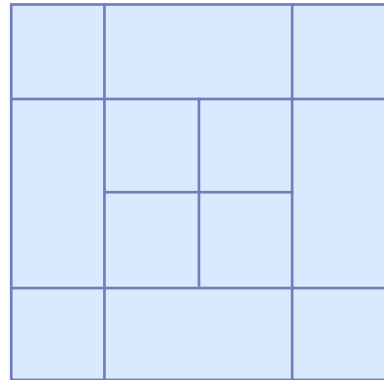
8. Kiek iš viso trikampių pavaizduota paveikslėlyje?



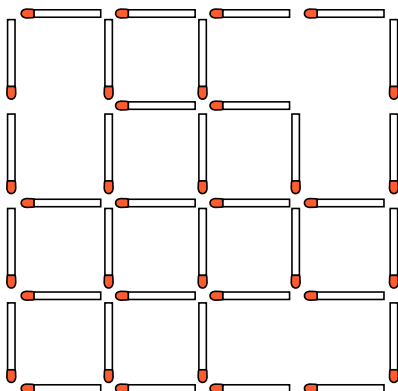
9. Kiek iš viso trikampių pavaizduota paveikslėlyje?



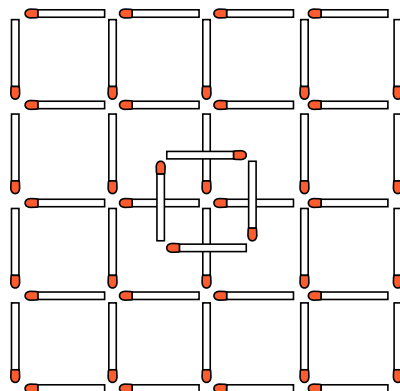
10. Kiek iš viso kvadratų pavaizduota paveikslėlyje?



11. Kiek iš viso kvadratų pavaizduota paveikslėlyje?

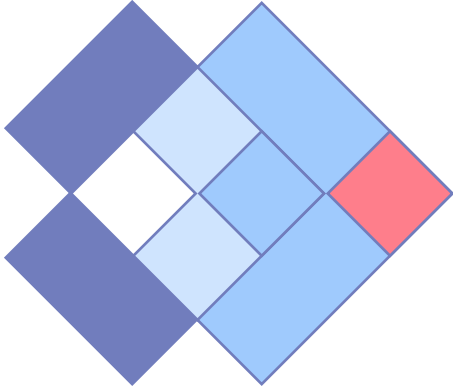


12. Kiek iš viso kvadratų pavaizduota paveikslėlyje?

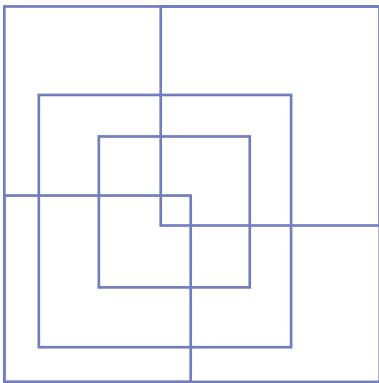


## 20. Kiek figūrų?

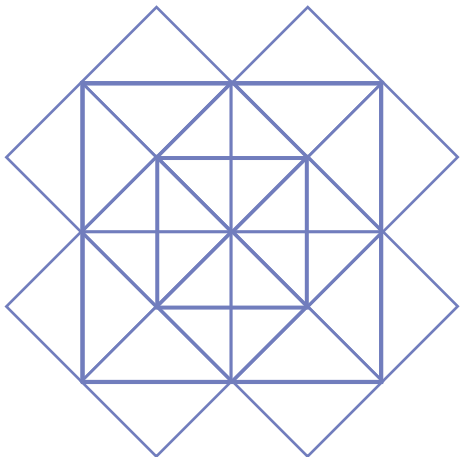
13. Kiek iš viso kvadratų pavaizduota paveikslėlyje?



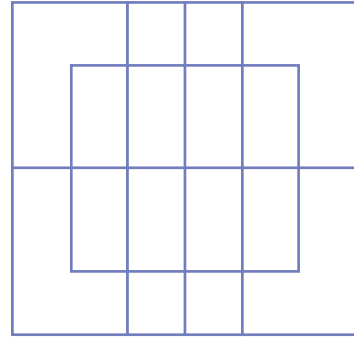
15. Kiek iš viso kvadratų pavaizduota paveikslėlyje?



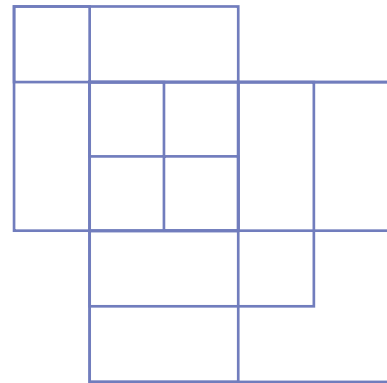
17. Kiek iš viso kvadratų pavaizduota paveikslėlyje?



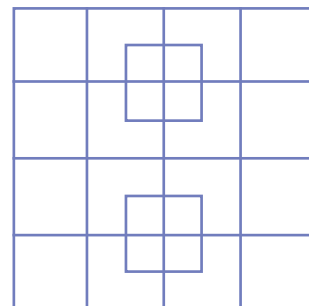
14. Kiek iš viso stačiakampių pavaizduota paveikslėlyje?



16. Kiek iš viso kvadratų pavaizduota paveikslėlyje?

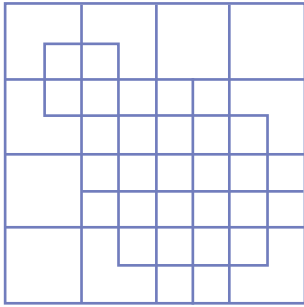


18. Kiek iš viso kvadratų pavaizduota paveikslėlyje?

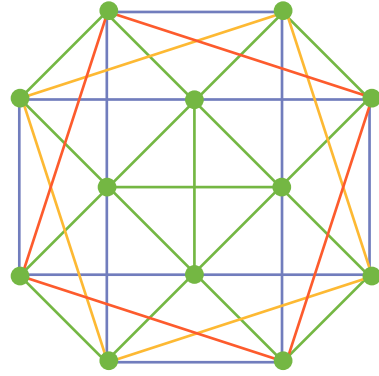


## 20. Kiek figūrų?

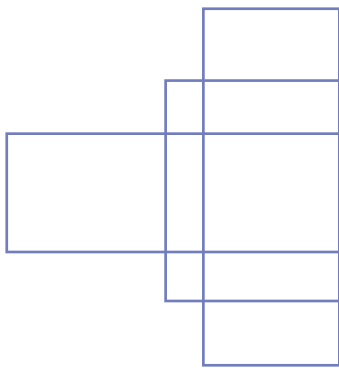
19. Kiek iš viso kvadratų pavaizduota paveikslėlyje?



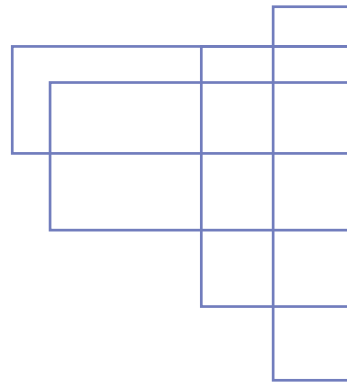
20. Kiek iš viso kvadratų pavaizduota paveikslėlyje?



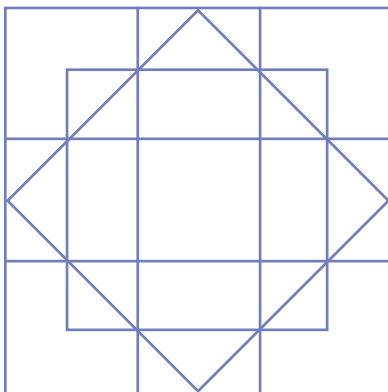
21. Kiek iš viso stačiakampių pavaizduota paveikslėlyje?



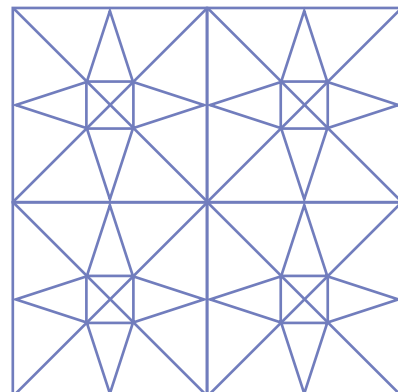
22. Kiek iš viso stačiakampių pavaizduota paveikslėlyje?



23. Kiek iš viso kvadratų pavaizduota paveikslėlyje?

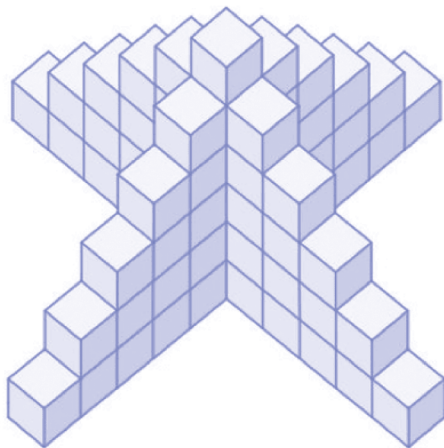


24. Kiek iš viso trikampių pavaizduota paveikslėlyje?




## 20. Kiek figūrų?

25. Kiek iš viso mažų kubelių sudaro šį statinį?



26. Kiek iš viso bet kokio dydžio kvadratų egzistuoja šachmatų lentoje?



27. Kiek iš viso kvadratų pavaizduota paveikslėlyje?

